

## [2013 수능대비 오답노트 09차]

역행렬이 꼭 있어 : 영되지마! 라고 해놓고 식을 고르기도 함  
홀짝에 규칙이 다른 수열과 급수 : 극한의 경우 속지 말기 결국 같아  
절대값 벗기기 : 정상, 빼꾸 나누기, 그리고 미분 혹은 적분 등등  
넓이급수 같다가 아니 길이급수 : 가장 길 때의 반지름으로 넓이 - 작은원 넓이  
통계적추정 : 신뢰구간의 공식, 95 99 또는 알파퍼센트 모두 준비하기

## [2012.09 대성]

7. 공동주택 층간 소음을 측정하는 방법 중 하나인 경량충격음의 측정 방법은 거실의 중앙점을 포함하여 4곳 이상의 지점을 선택한 후 음압레벨을 측정하고 다음 식에 따라 기준이 되는 경량충격음 레벨  $L$ 을 구한다.

$$L = 10 \log \left( \frac{1}{n} \sum_{i=1}^n 10^{\frac{L_i}{10}} \right) \quad (n=4, 5, 6, \dots)$$

이때  $L_i$ 는  $i$ 번째 측정점의 음압레벨이고  $n$ 은 측정지점의 수이다. 어느 공동주택에서 경량충격음을 측정하기 위하여 5곳에서만 음압레벨을 측정하였더니 측정된 음압레벨이 각각 20dB, 40dB, 60dB, 80dB, 100dB이었다. 이때  $L$ 의 값은? (단,  $\log 2=0.30$ ,  $\log(10^n-1)=n$  ( $n=2, 3, 4, \dots$ )으로 계산한다.) [3점]

- ① 93dB    ② 94dB    ③ 95dB    ④ 96dB    ⑤ 97dB

$$\begin{aligned} \therefore L &= 10 \log \left( \frac{1}{5} \cdot \frac{10^2(10^{10}-1)}{10^2-1} \right) \\ &= 10 \{ \log 10^2 + \log(10^{10}-1) - \log 5 \\ &\quad - \log(10^2-1) \} \\ &= 10 \{ 2 + 10 - (1 - 0.3) - 2 \} \\ &= 93 \end{aligned}$$

답 ①

9. 동현, 성민, 정수 세 사람을 포함하여 5명을 일렬로 세우려고 한다. 동현이와 성민이가 이웃하여 서게 될 때 성민이와 정수가 이웃하게 될 확률은? [3점]

- ①  $\frac{1}{4}$       ②  $\frac{1}{3}$       ③  $\frac{2}{5}$       ④  $\frac{1}{2}$       ⑤  $\frac{3}{5}$

9. i) 동현이와 성민이가 이웃하여 서는 경우의 수는  $2 \times 4!$ (가지)

ii) 동현과 성민, 성민과 정수가 이웃하여 서는 경우는

(동현, 성민, 정수)

(정수, 성민, 동현)

인 경우이므로 그 수는  $2 \times 3!$ (가지)

i), ii)에서 구하는 확률은

$$\frac{2 \times 3!}{2 \times 4!} = \frac{1}{4}$$

**답** ①

11. 모든 실수  $x$ 에 대하여 행렬  $\begin{pmatrix} -3f(x) & f(x) \\ x+2 & x^2 \end{pmatrix}$ 의 역행렬이 존재하도록 하는 함수  $f(x)$ 가 될 수 있는 것만을 <보기>에서 있는 대로 고른 것은? [3점]

<보기>

ㄱ.  $f(x) = \sin x + 2$   
 ㄴ.  $f(x) = x^2 + 2x - 1$   
 ㄷ.  $f(x) = 2^{-x} + 1$

- ① ㄱ                      ② ㄴ                      ③ ㄱ, ㄴ  
 ④ ㄱ, ㄷ                ⑤ ㄴ, ㄷ

11. 행렬  $\begin{pmatrix} -3f(x) & f(x) \\ x+2 & x^2 \end{pmatrix}$ 의 역행렬이 존재하기 위한 조건은 모든 실수  $x$ 에 대하여  
 $-3x^2f(x) - (x+2)f(x) \neq 0$   
 $(3x^2+x+2)f(x) \neq 0$   
 모든 실수  $x$ 에 대하여

$3x^2+x+2 = 3\left(x+\frac{1}{6}\right)^2 + \frac{23}{12} > 0$   
 이므로  $f(x) \neq 0$ 이다.  
 따라서 함수  $f(x)$ 의 그래프가  $x$ 축과 만나지 않아야 하므로  $x$ 축과 만나지 않는 함수의 그래프는 ㄱ, ㄷ이다.

**답** ④

**12.** A, B, C 세 사람 앞에 각각 숫자 1, 2, 3이 적힌 세 개의 버튼이 놓여 있다. 세 사람이 각각 세 개의 버튼 중 임의로 한 개의 버튼을 누를 때, 확률변수  $X$ 를 다음과 같이 정한다.

세 사람이 누른 버튼의 번호가 모두 같으면  $X=1$ , 모두 다르다면  $X=2$ , 그 이외의 경우에는  $X=3$ 이다.

이 시행을 한 번 할 때,  $X$ 의 평균은? [3점]

- ①  $\frac{22}{9}$     ②  $\frac{23}{9}$     ③  $\frac{8}{3}$     ④  $\frac{25}{9}$     ⑤  $\frac{26}{9}$

**12.**  $P(X=1) = \frac{3}{27} = \frac{1}{9}$

$P(X=2) = \frac{6}{27} = \frac{2}{9}$

$P(X=3) = 1 - \frac{1}{9} - \frac{2}{9} = \frac{2}{3}$

$\therefore E(X) = 1 \times \frac{1}{9} + 2 \times \frac{2}{9} + 3 \times \frac{2}{3} = \frac{23}{9}$

답 ②

**13.**  $a_n = \left(-\frac{1}{2}\right)^n$ 인 수열  $\{a_n\}$ 에 대하여 수열  $\{b_n\}$ 을 다음과 같이 정의한다.

$$b_n = \begin{cases} a_n & (a_n \geq a_{n+1}) \\ a_{n+1} & (a_n < a_{n+1}) \end{cases} \quad (n=1, 2, 3, \dots)$$

$\log_2 b_{50} b_{51}$ 의 값은? [3점]

- ① -100    ② -102    ③ -104    ④ -106    ⑤ -108

**13.**  $a_1 = -\frac{1}{2}, a_2 = \frac{1}{4}, a_3 = -\frac{1}{8}, a_4 = \frac{1}{16},$

$$a_5 = -\frac{1}{32}, a_6 = \frac{1}{64}, \dots$$

이므로

$$b_1 = \frac{1}{4}, b_2 = \frac{1}{4}, b_3 = \frac{1}{16}, b_4 = \frac{1}{16}, b_5 = \frac{1}{64},$$

$$b_6 = \frac{1}{64}, \dots$$

따라서

$$b_{2k-1} = \left(\frac{1}{4}\right)^k, b_{2k} = \left(\frac{1}{4}\right)^k \quad (k=1, 2, 3, \dots)$$

이므로

$$b_{50} b_{51} = \left(\frac{1}{4}\right)^{25} \left(\frac{1}{4}\right)^{26} = \left(\frac{1}{4}\right)^{51}$$

$$\therefore \log_2 b_{50} b_{51} = \log_2 2^{-102} = -102$$

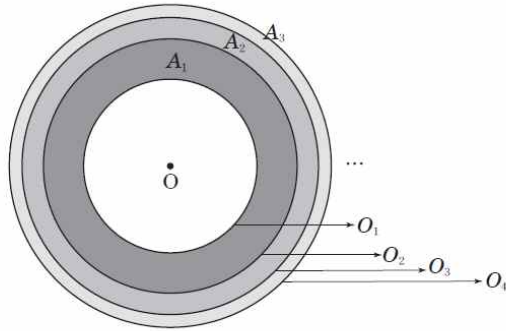
**답** ②

15. 그림과 같이 중심이 O이고 반지름의 길이가  $r_n$ 인 원  $O_n$ 이 있다. 수열  $\{r_n\}$ 이

$$r_1 = \frac{1}{2}, r_{n+1} = r_n + \frac{1}{2^{n+1}} \quad (n=1, 2, 3, \dots)$$

을 만족시킬 때, 원  $O_{n+1}$ 의 내부와 원  $O_n$ 의 외부의 공통부분으로 이루어진 영역의 넓이를  $A_n$ 이라 하자. 이때,  $\sum_{n=1}^{\infty} A_n$ 의 값은?

[4점]



- ①  $\frac{1}{2}\pi$     ②  $\frac{3}{4}\pi$     ③  $\pi$     ④  $\frac{3}{2}\pi$     ⑤  $2\pi$

15.  $r_{n+1} = r_n + \frac{1}{2^{n+1}}$ 에서

$$\begin{aligned} r_n &= r_1 + \sum_{k=1}^{n-1} \frac{1}{2^{k+1}} = \frac{1}{2} + \frac{\frac{1}{4} \left[ 1 - \left(\frac{1}{2}\right)^{n-1} \right]}{1 - \frac{1}{2}} \\ &= \frac{1}{2} + \frac{1}{2} \left[ 1 - \left(\frac{1}{2}\right)^{n-1} \right] = 1 - \left(\frac{1}{2}\right)^n \\ A_n &= (r_{n+1}^2 - r_n^2) \pi \\ &= \left[ \left[ 1 - \left(\frac{1}{2}\right)^{n+1} \right]^2 - \left[ 1 - \left(\frac{1}{2}\right)^n \right]^2 \right] \pi \\ &= \left[ \frac{1}{2^n} - \frac{3}{4} \cdot \left(\frac{1}{4}\right)^n \right] \pi \end{aligned}$$

$$\begin{aligned} \sum_{n=1}^{\infty} A_n &= \pi \sum_{n=1}^{\infty} \left[ \frac{1}{2^n} - \frac{3}{4} \cdot \left(\frac{1}{4}\right)^n \right] \\ &= \pi \left( \frac{\frac{1}{2}}{1 - \frac{1}{2}} - \frac{3}{4} \cdot \frac{\frac{1}{4}}{1 - \frac{1}{4}} \right) \\ &= \pi \left( 1 - \frac{1}{4} \right) = \frac{3}{4} \pi \end{aligned}$$

답 ②

17. 연속함수  $f(x)$ 가 다음 조건을 만족시킨다.

(가) 모든 실수  $x$ 에 대하여  $f(1-x) + f(1+x) = 0$ 이다.

(나)  $\int_1^2 f(x) dx = 3, \int_{-2}^2 f(x) dx = -7$

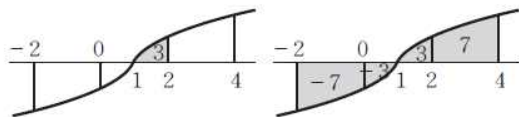
이때, 정적분  $\int_1^4 f(x) dx$ 의 값은? [4점]

- ① 10      ② 11      ③ 12      ④ 13      ⑤ 14

17. (가)에 의해  $y=f(x)$ 의 그래프는 점  $(1, 0)$ 에 대하여 대칭이므로

$$\int_0^1 f(x) dx = -\int_1^2 f(x) dx$$

$$\therefore \int_0^2 f(x) dx = \int_0^1 f(x) dx + \int_1^2 f(x) dx = 0$$



$$\int_{-2}^2 f(x) dx = -7 \text{ 이고 } \int_0^2 f(x) dx = 0 \text{ 이므로}$$

$$\int_{-2}^0 f(x) dx = -\int_2^4 f(x) dx = -7$$

$$\therefore \int_2^4 f(x) dx = 7$$

따라서

$$\begin{aligned} \int_1^4 f(x) dx &= \int_1^2 f(x) dx + \int_2^4 f(x) dx \\ &= 3 + 7 = 10 \end{aligned}$$

답 ①

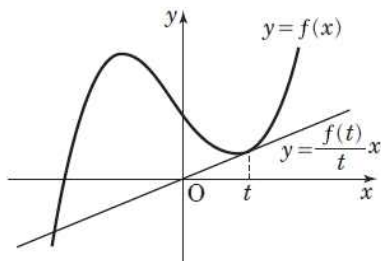


18. 함수  $f(x) = x^3 - 2x + 16$ 에 대하여 곡선  $y = f(x)$ 와 직선

$y = \frac{f(t)}{t}x$ 가 접할 때, 양수  $t$ 의 값은? [4점]

- ① 1      ②  $\sqrt{2}$       ③  $\sqrt{3}$       ④ 2      ⑤  $\sqrt{5}$

18. 직선  $y = \frac{f(t)}{t}x$ 는 두 점  $(0, 0)$ 과  $(t, f(t))$ 를 지나는 직선이므로,  $t$ 는 직선  $y = \frac{f(t)}{t}x$ 와 곡선  $y = f(x)$ 의 교점의  $x$ 좌표를 의미한다.



$t > 0$ 이므로 위 그림에서  $t$ 는 접점의  $x$ 좌표를 의미한다.

곡선  $y = x^3 - 2x + 16$  위의 점  $(t, t^3 - 2t + 16)$ 에서 그은 접선의 방정식은

$$y - (t^3 - 2t + 16) = (3t^2 - 2)(x - t)$$

이 접선이 원점을 지나므로

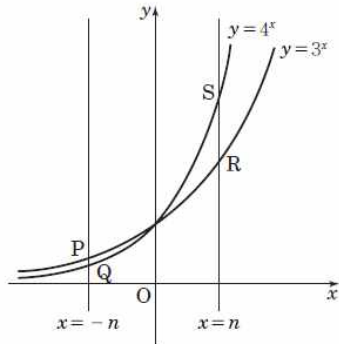
$$-(t^3 - 2t + 16) = -t(3t^2 - 2)$$

$$t^3 = 8$$

$$\therefore t = 2$$

답 ④

19. 그림과 같이 자연수  $n$ 에 대하여 직선  $x=-n$ 이 두 곡선  $y=3^x$ ,  $y=4^x$ 과 만나는 점을 각각 P, Q라 하고 직선  $x=n$ 이 두 곡선  $y=3^x$ ,  $y=4^x$ 과 만나는 점을 각각 R, S라 하자. 직선 PS의 기울기를  $a_n$ , 직선 QR의 기울기를  $b_n$ 이라 할 때,  $\sum_{n=1}^{\infty} \frac{b_n}{a_n}$ 의 값은? [4점]



- ① 2      ② 3      ③ 4      ④ 5      ⑤ 6

19. 두 점 P, S의 좌표는 각각  $(-n, 3^{-n})$ ,  $(n, 4^n)$ 이므로 직선 PS의 기울기  $a_n$ 은

$$a_n = \frac{4^n - 3^{-n}}{n - (-n)} = \frac{4^n - \frac{1}{3^n}}{2n} = \frac{12^n - 1}{2n \cdot 3^n}$$

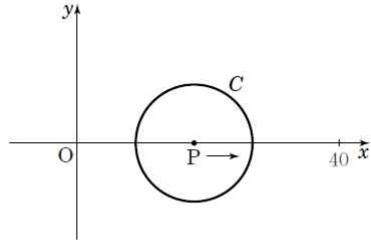
- 두 점 Q, R의 좌표는 각각  $(-n, 4^{-n})$ ,  $(n, 3^n)$ 이므로 직선 QR의 기울기  $b_n$ 은

$$b_n = \frac{3^n - 4^{-n}}{n - (-n)} = \frac{3^n - \frac{1}{4^n}}{2n} = \frac{12^n - 1}{2n \cdot 4^n}$$

$$\begin{aligned} \therefore \sum_{n=1}^{\infty} \frac{b_n}{a_n} &= \sum_{n=1}^{\infty} \frac{\frac{12^n - 1}{2n \cdot 4^n}}{\frac{12^n - 1}{2n \cdot 3^n}} = \sum_{n=1}^{\infty} \left(\frac{3}{4}\right)^n \\ &= \frac{\frac{3}{4}}{1 - \frac{3}{4}} = 3 \end{aligned}$$

답 ②

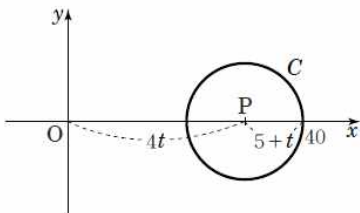
20. 원점을 출발하여 매초 4의 속도로  $x$ 축 위를 움직이는 점 P와 점 P를 중심으로 하고 반지름의 길이가 매초 1의 비율로 늘어나는 원 C가 있다. 점 P가 원점을 출발하는 순간 원 C의 반지름의 길이는 5라 할 때, 원 C가 처음으로 점  $(40, 0)$ 을 지나 는 순간 원 C의 넓이의 시간(초)에 대한 순간변화율은? [4점]



- ①  $8\pi$                       ②  $12\pi$                       ③  $16\pi$   
 ④  $20\pi$                       ⑤  $24\pi$

20.  $t$ 초 후의 점 P는  $(4t, 0)$ 이고 점 P를 중심으로 하는 원 C의 반지름의 길이는  $5+t$ 이다.  $t$ 초 후 원 C의 넓이를  $S(t)$ 라 하면

$$S(t) = \pi(5+t)^2 = (t^2 + 10t + 25)\pi$$



원 C가 처음으로 점  $(40, 0)$ 을 지나 는 시각은

$$4t + 5 + t = 40$$

$$\therefore t = 7$$

$S'(t) = 2\pi(5+t)$ 에서  $S'(7) = 24\pi$ 이다.

답 ⑤

27.  $x$ 에 대한 지수방정식  $a^{2x} - 9a^x + 4 = 0$ 이 서로 다른 두 실근을 갖고, 그 두 실근의 합이  $-2$ 가 되도록 하는 양수  $a$ 에 대하여  $20a$ 의 값을 구하시오. [4점]

27. **답답형**  $a^{2x} - 9a^x + 4 = 0$ 에서  $a^x = t$  ( $t > 0$ )로

놓으면

$$t^2 - 9t + 4 = 0$$

방정식  $a^{2x} - 9a^x + 4 = 0$ 의 두 근을  $\alpha$ ,  $\beta$ 라 하면

$t^2 - 9t + 4 = 0$ 의 두 근은  $a^\alpha$ ,  $a^\beta$ 이다.

이차방정식의 근과 계수의 관계에 의하여

$$a^\alpha \cdot a^\beta = a^{\alpha+\beta} = 4$$

이때,  $\alpha + \beta = -2$ 이므로  $a^{-2} = 4$

$$\therefore a = 2^{-1} = \frac{1}{2}$$

$$\therefore 20a = 20 \times \frac{1}{2} = 10$$

**답** 10

28. 다음과 같은 규칙에 따라 수를 나열하려고 한다.

- (가)  $n$ 행의 1열과  $(n+1)$ 열에는 자연수  $n$ 을 나열한다.  
 $(n=1, 2, 3, \dots)$
- (나)  $n$ 행의  $k$ 열에는  $(n-1)$ 행의  $(k-1)$ 열과  $k$ 열의 두 자연수의 합을 나열한다.  $(n=2, 3, 4, \dots, 2 \leq k \leq n)$
- (다)  $n$ 행에는  $(n+1)$ 개의 자연수를 나열한다.  
 $(n=1, 2, 3, \dots)$

	1열	2열	3열	4열	...
1행	1	1			
2행	2	2	2		
3행	3	4	4	3	
4행	4	7	8	7	4
⋮	⋮	⋮	⋮	⋮	⋮

19행의 3열의 수를  $a$ , 20행의 3열의 수를  $b$ 라 할 때,  $b-a$ 의 값을 구하시오. [4점]

28. **단답형** 제  $n$ 행의 2열에 나열된 수를  $b_n$ 이라

하면

$$b_{19} + a = b \text{이므로}$$

$$b - a = b_{19}$$

$$b_{n+1} = b_n + n, \quad b_1 = 1 \text{이므로}$$

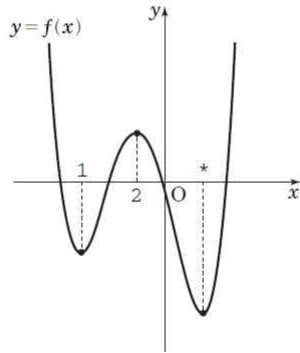
$$b_n = 1 + \sum_{k=1}^{n-1} k = 1 + \frac{(n-1) \cdot n}{2}$$

$$\therefore b_{19} = 1 + \frac{18 \cdot 19}{2} = 1 + 171 = 172$$

$$\therefore b - a = 172$$

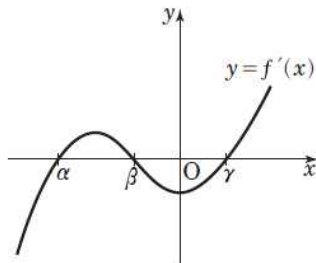
**답** 172

29. 다음 그림과 같이 사차함수  $y=f(x)$ 는  $x=\alpha$ ,  $x=\beta$ ,  $x=\gamma$ 에서 극값을 가지며,  $f(\alpha)=-4$ ,  $f(\beta)=3$ ,  $f(\gamma)=-8$ 이다.  
(단,  $\alpha < \beta < \gamma$ )



도함수  $y=f'(x)$ 의 그래프와  $x$ 축으로 둘러싸인 부분의 넓이를 구하시오. [4점]

29. **답답형**  $y=f'(x)$ 의 그래프와  $x$ 축과의 교점의  $x$ 좌표는  $\alpha$ ,  $\beta$ ,  $\gamma$ 이다.



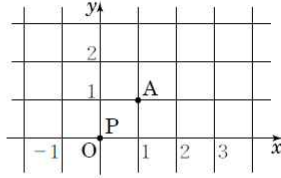
$\alpha < x < \beta$ 에서  $f(x)$ 는 증가하므로  $f'(x) > 0$   
 $\beta < x < \gamma$ 에서  $f(x)$ 는 감소하므로  $f'(x) < 0$

따라서 도함수  $y=f'(x)$ 의 그래프와  $x$ 축으로 둘러싸인 부분의 넓이  $S$ 는

$$\begin{aligned} S &= \int_{\alpha}^{\beta} |f'(x)| dx \\ &= \int_{\alpha}^{\beta} f'(x) dx - \int_{\beta}^{\gamma} f'(x) dx \\ &= [f(x)]_{\alpha}^{\beta} - [f(x)]_{\beta}^{\gamma} \\ &= \{f(\beta) - f(\alpha)\} - \{f(\gamma) - f(\beta)\} \\ &= \{3 - (-4)\} - \{(-8) - 3\} \\ &= 18 \end{aligned}$$

**답** 18

30. 좌표평면 위를 움직이는 점 P는 1개의 주사위를 한번 던질 때마다 다음과 같은 규칙으로 움직인다.



- (가) 1 또는 2 또는 3의 눈이 나오면  $x$ 축의 방향으로 +1만큼 움직인다.
- (나) 4 또는 5의 눈이 나오면  $x$ 축의 방향으로 -1만큼 움직인다.
- (다) 6의 눈이 나오면  $y$ 축의 방향으로 +1만큼 움직인다.

원점을 출발한 점 P가 주사위를 6번 던진 후 점 A(1, 1)에 있게 될 확률은  $\frac{q}{p}$ 이다.  $p+q$ 의 값을 구하시오. (단,  $p, q$ 는 서로 소인 자연수이다.) [4점]

30. **답형** 오른쪽, 왼쪽, 위쪽으로 이동하는 횟수를 각각  $a, b, c$ 라 하면  $a+b+c=6$   
 점 P는 반드시 위쪽으로 1칸 이동해야 하므로  $c=1 \therefore a+b=5$   
 또,  $a-b=1$ 이므로  $a=3, b=2$   
 주사위를 한 번 던질 때마다 오른쪽, 왼쪽, 위쪽으로 움직일 확률은 각각  $\frac{1}{2}, \frac{1}{3}, \frac{1}{6}$ 이므로 구하

는 확률은

$${}^6C_3 \cdot {}^3C_2 \cdot {}^1C_1 \left(\frac{1}{2}\right)^3 \left(\frac{1}{3}\right)^2 \left(\frac{1}{6}\right) = \frac{5}{36}$$

이다.

$$\therefore p+q=36+5=41$$

**답** 41

## [2012.09 중앙]

10. 확률변수  $X$ 가 평균이 7, 분산이  $\sigma^2$ 인 정규분포를 따른다.  
 $P(4 \leq X \leq 9) = p$ 이고  $P(X \leq 5) = q$ 일 때, 다음 중  $P(9 \leq X \leq 10)$   
 의 값과 항상 같은 것은? (3점)
- ①  $p+q-1$                       ②  $p+2q-1$   
 ③  $2p+q-1$                     ④  $2p+2q-1$   
 ⑤  $2p+3q-1$

10. 이해력 - 통계                      [3점] 정답 ②

$P(4 \leq X \leq 7) = a$ ,  $P(7 \leq X \leq 9) = b$ 라 하면  
 $P(4 \leq X \leq 9) = a + b$   
 $\therefore a + b = p$  ..... ㉠

또,  $P(X \leq 5) = P(X \geq 9)$   
 $= P(X \geq 7) - P(7 \leq X \leq 9)$   
 $= 0.5 - b$   
 $\therefore 0.5 - b = q$  ..... ㉡

이때,  $P(4 \leq X \leq 7) = P(7 \leq X \leq 10) = a$ 이므로  
 $P(9 \leq X \leq 10) = P(7 \leq X \leq 10) - P(7 \leq X \leq 9)$   
 $= a - b$

㉠, ㉡에서  
 $b = 0.5 - q$ ,  $a = p - b = p + q - 0.5$   
 $\therefore a - b = (p + q - 0.5) - (0.5 - q)$   
 $= p + 2q - 1$



11. 일직선으로 뻗은 도로 위를 두 자동차 A, B가 다음과 같이 움직인다.

(가) 자동차 A는 속도가 일정하고, 자동차 B는 출발한 지  $t$ 초가 되는 순간의 속도가  $\frac{1}{3}t^2$ (m/초)이다.

(나) 자동차 A는 자동차 B보다 36m 앞에서 출발한다.

(다) 두 자동차 A, B는 같은 방향으로 움직인다.

두 자동차 A, B가 동시에 출발한 지 9초 후에 만난다고 할 때, 자동차 A의 속도는? (단, 자동차의 길이는 무시하고, 속도의 단위는 m/초이다.) (4점)

- ① 3
- ②  $\frac{7}{2}$
- ③ 4
- ④  $\frac{9}{2}$
- ⑤ 5

11. 수학 외적 문제 해결 능력 - 다항함수의 적분법

(4점) 정답 ⑤

자동차 A의 속도를  $v$ 라 하자. 자동차 B의 출발점의 위치를 0이라 하면, 출발한 지  $t$ 초 후의 두 자동차 A, B의 위치는 각각

$$36 + vt \text{ (m)}, \int_0^t \frac{1}{3} t^2 dt = \frac{1}{9} t^3 \text{ (m)}$$

두 자동차가 동시에 출발한 지 9초 후의 두 자동차의 위치가 같으므로

$$36 + 9v = \frac{1}{9} \times 9^3$$

$$9v = 45$$

$$\therefore v = 5 \text{ (m/초)}$$

14. 수열  $\{a_n\}$ 의 첫째항부터 제 $n$ 항까지의 합을  $S_n$ 이라 할 때, 다음이 성립한다.

$$S_{2n-1} = \frac{10n}{2n-1}, S_{2n} = \frac{10n+1}{2n} \quad (n=1, 2, 3, \dots)$$

이때, 수열  $\{a_n\}$ 의 둘째항부터의 무한급수  $\sum_{n=2}^{\infty} a_n$ 의 값은? (3점)

- |      |      |
|------|------|
| ① -5 | ② -4 |
| ③ -3 | ④ -2 |
| ⑤ -1 |      |

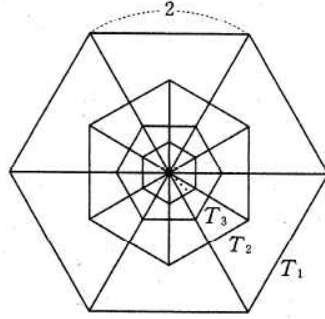
14. 이해력 - 수열의 극한 (3점) **정답** ①

$a_1 = S_1 = 10$ 이다.

$\lim_{n \rightarrow \infty} S_{2n-1} = \lim_{n \rightarrow \infty} S_{2n} = 5$ 이므로  $\lim_{n \rightarrow \infty} S_n = 5$ 이다.

$$\therefore \sum_{n=2}^{\infty} a_n = \sum_{n=1}^{\infty} a_n - a_1 = \lim_{n \rightarrow \infty} S_n - a_1 = 5 - 10 = -5$$

15. 한 변의 길이가 2인 정육각형  $T_1$ 이 있다. 그림과 같이 이 정육각형의 가장 긴 3개의 대각선에 의하여 생기는 6개의 정삼각형의 무게중심을 꼭짓점으로 하는 정육각형을  $T_2$ 라 하자. 같은 방법으로 정육각형  $T_n$  ( $n=1, 2, 3, \dots$ )의 가장 긴 3개의 대각선에 의하여 생기는 6개의 정삼각형의 무게중심을 꼭짓점으로 하는 정육각형을  $T_{n+1}$ 이라 하자. 정육각형  $T_n$ 의 넓이를  $S_n$ 이라 할 때,  $\sum_{n=1}^{\infty} S_n$ 의 값은? (4점)



- ①  $8\sqrt{3}$
- ②  $9\sqrt{3}$
- ③  $12\sqrt{3}$
- ④  $15\sqrt{3}$
- ⑤  $16\sqrt{3}$

15. 수학 내적 문제 해결 능력 - 수열의 극한

(4점) 정답 ②

$$S_1 = 6 \times \frac{\sqrt{3}}{4} \times 2^2 = 6\sqrt{3}$$

정육각형  $T_n$ 의 한 변의 길이를  $a_n$ 이라 하면

$$a_{n+1} = \frac{\sqrt{3}}{2} a_n \times \frac{2}{3} = \frac{\sqrt{3}}{3} a_n \quad (n=1, 2, 3, \dots)$$

따라서, 수열  $\{S_n\}$ 은 첫째항이  $6\sqrt{3}$ , 공비가

$$\left(\frac{\sqrt{3}}{3}\right)^2 = \frac{1}{3}$$

인 등비수열이다.

$$\therefore \sum_{n=1}^{\infty} S_n = \frac{6\sqrt{3}}{1 - \frac{1}{3}} = 9\sqrt{3}$$

16. 세 이차정사각행렬  $A, B, C$ 에 대하여 옳은 것만을 <보기>에서 있는 대로 고른 것은? (단,  $O$ 는 영행렬이고,  $E$ 는 단위행렬이다.) [3점]

<보 기>

- ㄱ.  $AC=BC$ 이고  $C^2=E$ 이면  $A=B$ 이다.
- ㄴ.  $A+B$ 의 역행렬이 존재하면  $A, B$  중 적어도 하나는 역행렬이 존재한다.
- ㄷ.  $A \neq O, B \neq E, AB=A$ 이면  $A, B$ 의 역행렬이 모두 존재하지 않는다.

- ① ㄱ
- ② ㄴ
- ③ ㄱ, ㄴ
- ④ ㄱ, ㄷ
- ⑤ ㄴ, ㄷ

16. 추론 능력(추측) - 행렬과 그래프 [3점] 정답 ①

ㄱ. (참)  $AC=BC$ 의 양변의 오른쪽에  $C$ 를 곱하면  
 $AC^2=BC^2$   
 $\therefore A=B$

존재하지만  $A, B$ 의 역행렬이 모두 존재하지 않는다.

ㄴ. (거짓) 【반례】  $A = \begin{pmatrix} 1 & 0 \\ 0 & 0 \end{pmatrix}, B = \begin{pmatrix} 0 & 0 \\ 0 & 1 \end{pmatrix}$ 이면

ㄷ. (거짓) 【반례】  $A = \begin{pmatrix} 1 & 0 \\ 0 & 0 \end{pmatrix}, B = \begin{pmatrix} 1 & 0 \\ 0 & 2 \end{pmatrix}$ 이면

$A+B = \begin{pmatrix} 1 & 0 \\ 0 & 1 \end{pmatrix}$ 이므로 행렬  $A+B$ 의 역행렬이

$AB=A$ 이지만 행렬  $B$ 의 역행렬이 존재한다.

17. 실수 전체의 집합에서 정의된 함수  $f(x)$ 와 함수

$$g(x) = \begin{cases} x^2 & (x \neq 0) \\ 1 & (x = 0) \end{cases}$$

이 있다.  $\lim_{x \rightarrow +0} f(x) - \lim_{x \rightarrow -0} f(x) = 1$  일 때, 옳은 것만을 <보기>에서 있는 대로 고른 것은? (단,  $\lim_{x \rightarrow +0} f(x)$ ,  $\lim_{x \rightarrow -0} f(x)$ 는 각각 극한값이 존재한다.) [4점]

< 보 기 >

- ㄱ. 함수  $f(x)$ 는  $x=0$ 에서 불연속이다.  
 ㄴ.  $\lim_{x \rightarrow 0} f(x)g(x)$ 의 값이 존재한다.  
 ㄷ. 함수  $f(x)g(x)$ 는  $x=0$ 에서 불연속이다.

- ① ㄱ                                      ② ㄴ  
 ③ ㄱ, ㄴ                                  ④ ㄱ, ㄷ  
 ⑤ ㄱ, ㄴ, ㄷ

17. 추론 능력(추측) - 함수의 극한과 연속

[4점] 정답 ③

$\lim_{x \rightarrow +0} f(x) = \alpha$ ,  $\lim_{x \rightarrow -0} f(x) = \beta$  ( $\alpha, \beta$ 는 상수)라 하자.

ㄱ. (참)  $\lim_{x \rightarrow +0} f(x) - \lim_{x \rightarrow -0} f(x) = \alpha - \beta = 1$ 이므로  $\alpha \neq \beta$ 이다.

따라서, 함수  $f(x)$ 는  $x=0$ 에서 불연속이다.

ㄴ. (참)  $\lim_{x \rightarrow +0} f(x)g(x) = \lim_{x \rightarrow +0} f(x) \times \lim_{x \rightarrow +0} g(x) = \alpha \times 0 = 0$

$$\lim_{x \rightarrow -0} f(x)g(x) = \lim_{x \rightarrow -0} f(x) \times \lim_{x \rightarrow -0} g(x) = \beta \times 0 = 0$$

$$\therefore \lim_{x \rightarrow 0} f(x)g(x) = 0$$

ㄷ. (거짓) 【반례】  $f(0) = 0$ 이면  $f(0)g(0) = 0 \times 1 = 0$ 이므로

$$\lim_{x \rightarrow 0} f(x)g(x) = f(0)g(0)$$

따라서, 함수  $f(x)g(x)$ 는  $x=0$ 에서 연속이다.

19. 집합  $\{x|x>0\}$ 에서 정의된 함수  $f(x)=x^2+x$ 의 역함수를  $g(x)$

라 하자. 이때, 등식  $\int_a^{2a} f(x)dx + \int_{f(a)}^{f(2a)} g(x)dx=68$ 을 만족시키

는 양수  $a$ 의 값은? (4점)

- ① 1
- ②  $\sqrt{2}$
- ③  $\sqrt{3}$
- ④ 2
- ⑤  $\sqrt{5}$

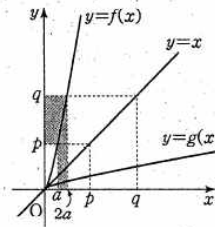
19. 이해력 - 다항함수의 적분법 [4점] 정답 ④

모든 양수  $x$ 에 대하여  $f'(x)=2x+1>0$ 이므로  $f(x)$ 는 증가함수이다.

이때,  $f(a)=a^2+a=p$ ,  $f(2a)=4a^2+2a=q$ 라 하면 역함수  $g(x)$ 에 대하여  $g(p)=a$ ,  $g(q)=2a$ 이다.

그런데 두 함수  $y=f(x)$ ,  $y=g(x)$ 의 그래프는 직선  $y=x$ 에 대하여 대칭이므로

$\int_a^{2a} f(x)dx + \int_{f(a)}^{f(2a)} g(x)dx$ 의 값은 [그림 3]의 어두운 부분의 넓이와 같다.



[그림 3]

따라서, [그림 3]의 어두운 부분의 넓이는  $(2a) \times q - a \times p = 2a(4a^2+2a) - a(a^2+a) = 7a^3+3a^2$

따라서,  $7a^3+3a^2=68$ 에서

$$7a^3+3a^2-68=0$$

$$(a-2)(7a^2+17a+34)=0$$

$$\therefore a=2$$

20.  $x, y$ 에 대한 연립방정식  $\begin{pmatrix} 2 & k+3 \\ k-4 & -3 \end{pmatrix} \begin{pmatrix} x \\ y \end{pmatrix} = \begin{pmatrix} 4 \\ -2 \end{pmatrix}$ 의 해가

무수히 많을 때, 좌표평면에서 점  $(x, y)$ 가 나타내는 도형이  $x$ 축,  $y$ 축과 만나는 두 점 사이의 거리는? (단,  $k$ 는 상수이고,  $x, y$ 는 실수이다.)

(4점)

①  $\frac{\sqrt{10}}{3}$

②  $\frac{2\sqrt{10}}{3}$

③  $\sqrt{10}$

④  $\frac{4\sqrt{10}}{3}$

⑤  $\frac{5\sqrt{10}}{3}$

20. 수학 내적 문제 해결 능력 - 행렬과 그래프

(4점) **정답** ②

$x, y$ 에 대한 연립방정식

$\begin{pmatrix} 2 & k+3 \\ k-4 & -3 \end{pmatrix} \begin{pmatrix} x \\ y \end{pmatrix} = \begin{pmatrix} 4 \\ -2 \end{pmatrix}$ 의 해가 무수히 많으므로

행렬  $\begin{pmatrix} 2 & k+3 \\ k-4 & -3 \end{pmatrix}$ 의 역행렬이 존재하지 않아야 한다.

$$\therefore 2 \cdot (-3) - (k+3)(k-4) = 0$$

$$k^2 - k - 6 = 0$$

$$(k+2)(k-3) = 0$$

$$k = -2 \text{ 또는 } k = 3$$

$k = -2$ 이면  $\begin{pmatrix} 2 & 1 \\ -6 & -3 \end{pmatrix} \begin{pmatrix} x \\ y \end{pmatrix} = \begin{pmatrix} 4 \\ -2 \end{pmatrix}$ 이므로 해가

존재하지 않는다.

$k = 3$ 이면  $\begin{pmatrix} 2 & 6 \\ -1 & -3 \end{pmatrix} \begin{pmatrix} x \\ y \end{pmatrix} = \begin{pmatrix} 4 \\ -2 \end{pmatrix}$ 이므로 직선  $x + 3y = 2$  위의 모든 점  $(x, y)$ 는 주어진 연립방정식의 해이다.

이때, 직선  $x + 3y = 2$ 의  $x$ 절편은 2,  $y$ 절편은  $\frac{2}{3}$ 이므로

구하는 두 점 사이의 거리는 두 점  $(2, 0), (0, \frac{2}{3})$ 사

이의 거리와 같다.

$$\therefore \sqrt{(2-0)^2 + (0-\frac{2}{3})^2} = \sqrt{4 + \frac{4}{9}} = \frac{2\sqrt{10}}{3}$$

21. 실수 전체의 집합에서 정의된 함수  $f(x)$ 가 다음 조건을 모두 만족시킨다.

- (가)  $\lim_{x \rightarrow +0} f(x) = -\lim_{x \rightarrow -0} f(x) = f(0) = 2$   
 (나)  $\lim_{x \rightarrow 3+0} f(x) = -\lim_{x \rightarrow 3-0} f(x) = f(3) = 2$   
 (다) 함수  $f(x)$ 는  $x=0$ 과  $x=3$ 에서만 불연속이다.

이때, 최고차항의 계수가 양수인 삼차함수  $g(x)$ 에 대하여 함수  $h(x)$ 를

$$h(x) = f(x)\{g(x) - g(-3)\}$$

이라 하자. 함수  $h(x)$ 가 모든 실수  $x$ 에서 연속일 때, 삼차함수  $g(x)$ 는  $x=p$ 에서 극댓값을 가진다. 이때, 상수  $p$ 의 값은? [4점]

- ①  $-\sqrt{3}$                       ②  $-\sqrt{2}$   
 ③  $-1$                          ④  $\sqrt{2}$   
 ⑤  $\sqrt{3}$

21. 수학 내적 문제 해결 능력 - 다항함수의 미분법 [4점] 정답 ①

삼차함수  $g(x)$ 는 모든 실수  $a$ 에 대하여 연속함수이므로  $\lim_{x \rightarrow a} g(x) = g(a)$

따라서, 함수  $h(x)$ 가 모든 실수  $x$ 에서 연속이라면  $x=0$ 과  $x=3$ 에서만 연속이면 된다.

(i)  $x=0$ 에서 연속일 조건

$$\begin{aligned} \lim_{x \rightarrow 0} h(x) &= \lim_{x \rightarrow 0} f(x) \times \lim_{x \rightarrow 0} \{g(x) - g(-3)\} \\ &= 2 \times \{g(0) - g(-3)\} \\ \lim_{x \rightarrow 0} h(x) &= \lim_{x \rightarrow 0} f(x) \times \lim_{x \rightarrow 0} \{g(x) - g(-3)\} \\ &= -2 \times \{g(0) - g(-3)\} \\ h(0) &= f(0)\{g(0) - g(-3)\} \\ &= 2 \times \{g(0) - g(-3)\} \end{aligned}$$

이므로 함수  $h(x)$ 가  $x=0$ 에서 연속이라면  $g(0) - g(-3) = 0$   
 $\therefore g(0) = g(-3)$

(ii)  $x=3$ 에서 연속일 조건

$$\begin{aligned} \lim_{x \rightarrow 3} h(x) &= \lim_{x \rightarrow 3} f(x) \times \lim_{x \rightarrow 3} \{g(x) - g(-3)\} \\ &= 2 \times \{g(3) - g(-3)\} \\ \lim_{x \rightarrow 3} h(x) &= \lim_{x \rightarrow 3} f(x) \times \lim_{x \rightarrow 3} \{g(x) - g(-3)\} \\ &= -2 \times \{g(3) - g(-3)\} \\ h(3) &= f(3)\{g(3) - g(-3)\} \\ &= 2 \times \{g(3) - g(-3)\} \end{aligned}$$

이므로 함수  $h(x)$ 가  $x=3$ 에서 연속이라면  $g(3) - g(-3) = 0$   
 $\therefore g(3) = g(-3)$

(i), (ii)에서  $g(-3) = g(0) = g(3) = k$ 라 하면

$$g(x) - k = ax(x+3)(x-3) \quad (a > 0)$$

으로 놓을 수 있다.

이때,  $g(x) = a(x^3 - 9x) + k$ 이므로

$$g'(x) = a(3x^2 - 9) = 0 \text{에서 } x = \pm\sqrt{3} \text{이다.}$$

따라서, 삼차함수  $g(x)$ 는  $x = -\sqrt{3}$ 에서 극댓값을 가진다.

$$\therefore p = -\sqrt{3}$$



27.  $\log(1+n)$ 의 가수와  $\log(175-n)$ 의 가수가 서로 같도록 하는 모든 자연수  $n$ 의 값의 합을 구하시오. [4점]

27. 이해력 - 지수함수와 로그함수 [4점] 정답 261

$n$ 은 자연수이고, 진수 조건에 의해  $1+n > 0$ 이고  $175-n > 0$ 이므로

$$1 \leq n < 175$$

이때, 두 상용로그  $\log(1+n)$ ,  $\log(175-n)$ 의 가수가 같으려면 등식

$$1+n = (175-n) \times 10^k \dots\dots\dots \textcircled{1}$$

을 만족시키는 정수  $k$ 가 존재해야 한다.

이때,  $2 \leq 1+n \leq 175$ ,  $1 \leq 175-n \leq 174$ 이므로  $\textcircled{1}$ 이 성립하려면

$$-2 \leq k \leq 2$$

이어야 한다.

(i)  $k = -2$ 일 때

$$1+n = (175-n) \times 10^{-2}$$

$100+100n=175-n$ 을 만족시키는 자연수  $n$ 은 존재하지 않는다.

(ii)  $k = -1$ 일 때

$$1+n = (175-n) \times 10^{-1}$$

$$10+10n=175-n$$

$$11n=165$$

$$\therefore n=15$$

(iii)  $k = 0$ 일 때

$$1+n = (175-n) \times 10^0$$

$$1+n = 175-n$$

$$2n = 174$$

$$\therefore n = 87$$

(iv)  $k = 1$ 일 때

$$1+n = (175-n) \times 10^1$$

$$1+n = 1750-10n$$

$$11n = 1749$$

$$\therefore n = 159$$

(v)  $k = 2$ 일 때

$$1+n = (175-n) \times 10^2$$

$$1+n = 17500-100n$$

을 만족시키는  $n$ 은 존재하지 않는다.

따라서, 구하는 자연수  $n$ 의 총합은

$$15 + 87 + 159 = 261$$

30. 두 자연수  $a, b$ 가 다음 조건을 모두 만족시킨다.

(가)  $1 < a < b < 10$

(나) 두 곡선  $y = a^{x+1}, y = b^x$ 의 교점의  $x$ 좌표를  $a$ 라 하면  $1 \leq a \leq 2$ 이다.

이때,  $a, b$ 의 순서쌍  $(a, b)$ 의 개수를 구하시오. [4점]

30. 이해력 - 지수함수와 로그함수 (4점) **정답** 8

$a^{a+1} = b^a$ 에서  $a = \left(\frac{b}{a}\right)^a$ 이므로  $a = \log_{\frac{b}{a}} a$

(나)에서  $1 \leq \log_{\frac{b}{a}} a \leq 2$

$\log_{\frac{b}{a}} \frac{b}{a} \leq \log_{\frac{b}{a}} a \leq \log_{\frac{b}{a}} \left(\frac{b}{a}\right)^2$

(가)에서  $\frac{b}{a} > 1$ 이므로  $\frac{b}{a} \leq a \leq \left(\frac{b}{a}\right)^2$

이때,  $b \leq a^2$ 이고  $a^3 \leq b^2$ 이므로

$a^3 \leq b^2 \leq a^4$

따라서, 구하는 순서쌍  $(a, b)$ 는  $(2, 3), (2, 4), (3, 6), (3, 7), (3, 8), (3, 9), (4, 8), (4, 9)$ 의 8개이다.

## [2012.09 종로]

6. 연속함수  $f(x)$ 에 대하여  $f'(x)=3x+|x|, f(0)=1$ 이 성립한다.

이때  $f(-1)+f(2)$ 의 값은?

[3점]

① 8

② 9

③ 10

④ 11

⑤ 12

6. 함수  $f(x)$ 는 미분가능하므로 연속함수이다.

$$f'(x) = \begin{cases} 4x & (x \geq 0) \\ 2x & (x < 0) \end{cases}$$

$$f(x) = \int f'(x) dx = \begin{cases} 2x^2 + C_1 & (x \geq 0) (C_1 : \text{적분상수}) \\ x^2 + C_2 & (x < 0) (C_2 : \text{적분상수}) \end{cases}$$

$f(0)=1$ 이므로

$$\lim_{x \rightarrow +0} f(x) = \lim_{x \rightarrow -0} f(x) = f(0)$$

$$C_1 = C_2 = 1$$

$$f(x) = \begin{cases} 2x^2 + 1 & (x \geq 0) \\ x^2 + 1 & (x < 0) \end{cases}$$

$$\therefore f(-1) + f(2) = 2 + 9 = 11$$

12. 수열  $\{a_n\}$ 이

$$a_1=1, a_2=\frac{1}{2}, 2a_{n+2}-a_{n+1}-a_n=0 \quad (n=1, 2, 3, \dots)$$

을 만족할 때,  $\lim_{n \rightarrow \infty} a_n$ 의 값은?

[4점]

①  $\frac{1}{4}$

②  $\frac{1}{3}$

③  $\frac{1}{2}$

④  $\frac{2}{3}$

⑤  $\frac{3}{4}$

12.  $2(a_{n+2}-a_{n+1})=-(a_{n+1}-a_n)$

$$a_{n+1}-a_n=(a_2-a_1)\left(-\frac{1}{2}\right)^{n-1}$$

$$\therefore a_n=a_1+\sum_{k=1}^{n-1}\left\{(a_2-a_1)\left(-\frac{1}{2}\right)^{k-1}\right\}$$

$$=1+\frac{\left(-\frac{1}{2}\right)\left[1-\left(-\frac{1}{2}\right)^{n-1}\right]}{1-\left(-\frac{1}{2}\right)}$$

$$=1+\frac{2}{3}\left(-\frac{1}{2}\right)\left[1-\left(-\frac{1}{2}\right)^{n-1}\right]$$

$$=\frac{2}{3}+\frac{1}{3}\left(-\frac{1}{2}\right)^{n-1}$$

$$\therefore \lim_{n \rightarrow \infty} a_n=\frac{2}{3}$$

13. 다항함수  $f(x)$ 가 다음 두 조건을 만족한다.

$$\lim_{x \rightarrow 0} \frac{f(x)}{x} = 8, \quad \lim_{x \rightarrow 2} \frac{f(x)}{x-2} = 5$$

이때  $\lim_{x \rightarrow 2} \frac{f(f(x))}{x^2-4}$ 의 값은?

[3점]

① 8

② 10

③ 12

④ 15

⑤ 20

13.  $\lim_{x \rightarrow 2} \frac{f(x)}{x-2} = 5$ 이므로  $\lim_{x \rightarrow 2} f(x) = 0$ 이다.

$$\begin{aligned} \therefore \lim_{x \rightarrow 2} \frac{f(f(x))}{x^2-4} &= \lim_{x \rightarrow 2} \frac{f(f(x))}{f(x)} \cdot \frac{f(x)}{x-2} \cdot \frac{1}{x+2} \\ &= 8 \times 5 \times \frac{1}{4} = 10 \end{aligned}$$

14. 두 이차정사각행렬  $A, B$ 에 대하여 옳은 것만을 <보기>에서 있는 대로 고른 것은? (단,  $E$ 는 단위행렬이다.) [4점]

<보 기>

ㄱ.  $AB=A+B$ 이면  $AB=BA$ 이다.  
 ㄴ.  $A^2B=ABA$ 이면  $AB^2=BAB$ 이다.  
 ㄷ.  $A^2B=E$ 이면  $A^2B^2=(AB)^2$ 이다.

- ① ㄱ                      ② ㄷ                      ③ ㄱ, ㄷ  
 ④ ㄴ, ㄷ                ⑤ ㄱ, ㄴ, ㄷ

14. ㄱ.  $AB=A+B$

$$(A-E)(B-E)=E$$

$$(B-E)(A-E)=E$$

$$\therefore AB=BA \quad \therefore \text{참}$$

ㄴ. [반례]  $A=\begin{pmatrix} 0 & 1 \\ 0 & 0 \end{pmatrix}, B=\begin{pmatrix} 0 & 0 \\ 0 & 1 \end{pmatrix}$

$$A^2=\begin{pmatrix} 0 & 1 \\ 0 & 0 \end{pmatrix}\begin{pmatrix} 0 & 1 \\ 0 & 0 \end{pmatrix}=\begin{pmatrix} 0 & 0 \\ 0 & 0 \end{pmatrix},$$

$$AB=\begin{pmatrix} 0 & 1 \\ 0 & 0 \end{pmatrix}\begin{pmatrix} 0 & 0 \\ 0 & 1 \end{pmatrix}=\begin{pmatrix} 0 & 1 \\ 0 & 0 \end{pmatrix}=A,$$

$$B^2=\begin{pmatrix} 0 & 0 \\ 0 & 1 \end{pmatrix}\begin{pmatrix} 0 & 0 \\ 0 & 1 \end{pmatrix}=\begin{pmatrix} 0 & 0 \\ 0 & 1 \end{pmatrix}=B,$$

$$BA=\begin{pmatrix} 0 & 0 \\ 0 & 1 \end{pmatrix}\begin{pmatrix} 0 & 1 \\ 0 & 0 \end{pmatrix}=\begin{pmatrix} 0 & 0 \\ 0 & 0 \end{pmatrix}$$

$$\therefore A^2B=A(BA)=O\text{이지만}$$

$$AB^2=AB=A=\begin{pmatrix} 0 & 1 \\ 0 & 0 \end{pmatrix}, (BA)B=O\text{이므로 } AB^2$$

$$\neq BAB\text{이다.} \quad \therefore \text{거짓}$$

$$\text{ㄷ. } A^2B=A(AB)=(AA)B=E \quad \dots\dots \text{㉠}$$

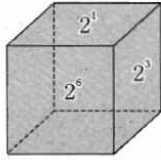
$$\therefore (BA)A=B(AA)=E(\because \text{㉠}) \quad \dots\dots \text{㉡}$$

$$\text{㉠, ㉡에서 } AB=A^{-1}=BA$$

$$\therefore A^2B^2=AABB=ABAB=(AB)^2 \quad \therefore \text{참}$$

따라서, 옳은 것은 ㄱ, ㄷ이다.

17. 그림과 같이 각 면에  $2^1, 2^2, 2^3, 2^4, 2^5, 2^6$ 의 수가 각각 한 번씩 적혀 있는 정육면체가 있다. 이 정육면체를 4번 던질 때, 바닥에 닿는 면에 있는 수를 차례로  $a, b, c, d$ 라 하자. 이때 이 네 수  $a, b, c, d$ 의 곱을 3으로 나눈 나머지가 1이 될 확률은? [4점]



- ①  $\frac{5}{16}$       ②  $\frac{3}{8}$       ③  $\frac{7}{16}$   
 ④  $\frac{1}{2}$       ⑤  $\frac{9}{16}$

17.  $2^1, 2^2, 2^3, 2^4, 2^5, 2^6$ 을 3으로 나눈 나머지는 각각 2, 1, 2, 1, 2, 1이다.

3으로 나눈 나머지가 1, 2인 것 중 4번을 선택해서 곱한 경우에 3으로 나눈 나머지가 1이 되는 경우는 1만 네 번인 경우와, 1 두 번, 2 두 번인 경우, 2만 네 번인 경우가 있다.

(i) 1만 네 번인 경우

$${}_4C_4 \left(\frac{1}{2}\right)^4 \left(\frac{1}{2}\right)^0 = \frac{1}{16}$$

(ii) 1 두 번, 2 두 번인 경우

$${}_4C_2 \left(\frac{1}{2}\right)^2 \left(\frac{1}{2}\right)^2 = \frac{6}{16}$$

(iii) 2만 네 번인 경우

$${}_4C_0 \left(\frac{1}{2}\right)^0 \left(\frac{1}{2}\right)^4 = \frac{1}{16}$$

$$\therefore \frac{1}{16} + \frac{6}{16} + \frac{1}{16} = \frac{1}{2}$$

18. 함수  $f(x)$ 가  $f(-x) = -f(x)$ 를 만족한다. 임의의 실수  $x$ 에 대하여

$$\int_{-x}^x \{t^3 + t^2 f(t) + t f(t) + 1\} dt = 2x^5 - 4x^3 + 2x$$

을 만족할 때,  $f(2)$ 의 값은?

[4점]

① 22

② 24

③ 26

④ 28

⑤ 30

$$18. \int_{-x}^x \{t^3 + t^2 f(t) + t f(t) + 1\} dt$$

$$= \int_{-x}^x \{t^3 + t^2 f(t)\} dt + \int_{-x}^x \{t f(t) + 1\} dt$$

$$= 0 + 2 \int_0^x \{t f(t) + 1\} dt$$

따라서,  $2 \int_0^x \{t f(t) + 1\} dt = 2x^5 - 4x^3 + 2x$ 이므로 양변을

$x$ 에 대하여 미분하면

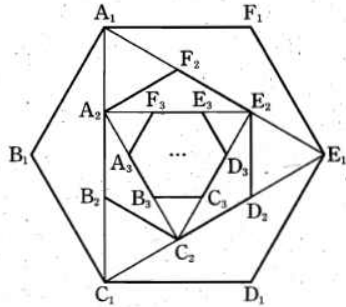
$$x f(x) + 1 = 5x^4 - 6x^2 + 1$$

$$\therefore f(x) = 5x^3 - 6x$$

$$\therefore f(2) = 40 - 12 = 28$$



21. 그림과 같이 한 변의 길이가 2인 정육각형  $A_1B_1C_1D_1E_1F_1$ 을  $H_1$ 이라 하고, 세 점  $A_1, C_1, E_1$ 을 연결하여 만든 삼각형을  $T_1$ 이라 하자. 삼각형  $T_1$ 의 세 변을 각각 삼등분한 점들을 차례로  $A_2, B_2, C_2, D_2, E_2, F_2$ 라 하고, 이 점들을 연결하여 만든 육각형  $A_2B_2C_2D_2E_2F_2$ 를  $H_2$ , 세 점  $A_2, C_2, E_2$ 를 연결하여 만든 삼각형을  $T_2$ 라 하자. 다시 삼각형  $T_2$ 의 세 변을 각각 삼등분한 점들을 차례로  $A_3, B_3, C_3, D_3, E_3, F_3$ 라 하고, 육각형  $A_3B_3C_3D_3E_3F_3$ 를  $H_3$ , 삼각형  $A_3C_3E_3$ 을  $T_3$ 이라 하자. 이와 같은 방법으로 도형  $H_1, H_2, H_3, \dots$ 와 도형  $T_1, T_2, T_3, \dots$ 을 만들어 나갈 때, 도형  $H_n$ 의 넓이를  $S_n$ 이라 하면,  $\lim_{n \rightarrow \infty} \sum_{k=1}^n S_k$ 의 값은? [4점]



- ①  $8\sqrt{3}$                       ②  $9\sqrt{3}$                       ③  $9+4\sqrt{3}$   
 ④  $9+9\sqrt{3}$                       ⑤  $12\sqrt{3}$

21.  $S_1 = 6 \times \frac{\sqrt{3}}{4} \times 2^2 = 6\sqrt{3}$

$\overline{A_1C_1} = 2 \times 2 \times \cos 30^\circ = 4 \times \frac{\sqrt{3}}{2} = 2\sqrt{3}$

$\therefore \overline{A_2B_2} = \frac{2\sqrt{3}}{3}$

$\overline{A_1B_1} : \overline{A_2B_2} = 2 : \frac{2\sqrt{3}}{3} = 1 : \frac{\sqrt{3}}{3}$

$\therefore S_1 : S_2 = 1 : \frac{1}{3}$

따라서,  $S_n$ 은 첫째항이  $6\sqrt{3}$ 이고, 공비가  $\frac{1}{3}$ 인 등비수열을 이룬다.

$\therefore \lim_{n \rightarrow \infty} \sum_{k=1}^n S_k = \frac{6\sqrt{3}}{1 - \frac{1}{3}} = 9\sqrt{3}$

28. 두 함수  $f(x), g(x)$ 가 다음과 같이 정의된다.

$$f(x) = |x-a| - a \quad (a \text{는 상수})$$

$$g(x) = \begin{cases} \frac{x^3-1}{x^2-1} & (x \neq 1) \\ 0 & (x=1) \end{cases}$$

함수  $y=f(x)g(x)$ 가  $x=1$ 에서 연속일 때,  $100a$ 의 값을 구하시오.

[4점]

28.  $f(x) = |x-a| - a$

$$g(x) = \begin{cases} \frac{x^2+x+1}{x+1} & (x \neq 1) \\ 0 & (x=1) \end{cases}$$

$$f(1)g(1) = (|a-1| - a) \times 0 = 0$$

$$\lim_{x \rightarrow 1} f(x)g(x) = (|a-1| - a) \times \frac{3}{2} = 0$$

함수  $y=f(x)g(x)$ 가  $x=1$ 에서 연속이므로

$$|a-1| - a = 0$$

$$\therefore |a-1| = a$$

$$a-1 = a \text{ 또는 } a-1 = -a$$

$$\therefore a = \frac{1}{2}$$

$$100a = 100 \times \frac{1}{2} = 50$$

29. 배터리를 생산하는 A사에서는 새로운 공정을 도입하여 새 배터리를 생산하는데 새 배터리의 사용 시간은 정규분포를 따른다고 한다. 새 배터리 사용 시간의 평균  $m$ 을 알아보기 위해 임의로  $n$ 개의 제품을 뽑아 조사했다.  $n$ 개 제품의 평균이  $\bar{X}$ , 표준편차가 9이었다. 이 표본을 이용하여 A사에서 생산하는 새 배터리 전체의 사용 시간의 평균  $m$ 을 신뢰도 95%인 신뢰구간으로 추정하였더니,  $158.04 \leq m \leq 161.96$ 이었다. 이때  $n$ 의 값을 구하시오. (단,  $P(|Z| \leq 1.96) = 0.95$ ) [4점]

29. 모집단의 표준편차가 주어지지 않으므로 표본의 표준편차를 대신해서 쓴다.  
 배터리의 사용 시간을  $X$ 라 하면  
 $X \sim N(m, 9^2)$   
 $\therefore \bar{X} \sim N\left(m, \frac{9^2}{n}\right)$   
 95%의 신뢰도로  $m$ 을 추정하면  
 $158.04 \leq m \leq 161.96$ 이므로

$$\begin{aligned} \bar{X} = 160 \text{이고 } \bar{X} - 1.96 \frac{9}{\sqrt{n}} \leq m \leq \bar{X} + 1.96 \frac{9}{\sqrt{n}} \text{에서} \\ \bar{X} + 1.96 \frac{9}{\sqrt{n}} - \left( \bar{X} - 1.96 \frac{9}{\sqrt{n}} \right) \\ = 2 \times 1.96 \frac{9}{\sqrt{n}} \\ = 161.96 - 158.04 = 3.92 \\ \therefore \frac{9}{\sqrt{n}} = 1 \quad \therefore n = 81 \end{aligned}$$

## [오답노트 09차 ~]

2012.09 대성	7 9 11 12 13
	15 17 18 19 20
	27 28 29 30
2012.09 중앙	10 11 14 15 16
	17 19 20 21 27
	30
2012.09 종료	6 12 13 14 17
	18 21 28 29