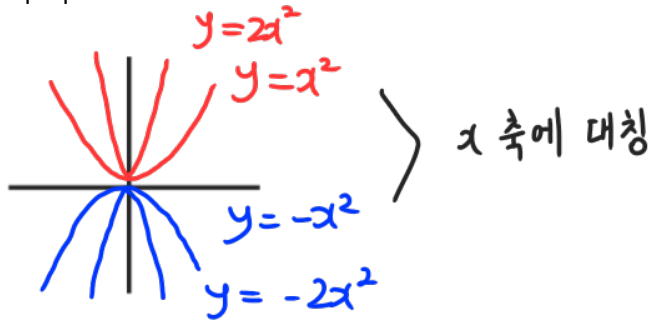


#이차함수 $y = ax^2 (a \neq 0)$

: 포물선 모양

: $a > 0$ 이면 아래로 볼록, $a < 0$ 이면 위로 볼록

: $|a|$ 값이 클수록 그래프의 폭이 좁아짐



#이차함수 $y = a(x-p)^2 + q$ (단, a, p, q 는 상수, $a \neq 0$)

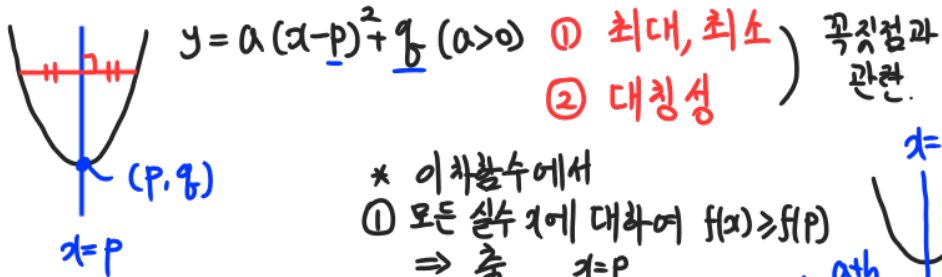
: $y = ax^2$ 의 그래프를 x 축의 방향으로 p 만큼,

y 축의 방향으로 q 만큼 평행이동한 것

: 꼭짓점의 좌표 $(p, q) \rightsquigarrow$ 최대, 최소와 관련

: 축의 방정식 $x = p$ 에 선대칭

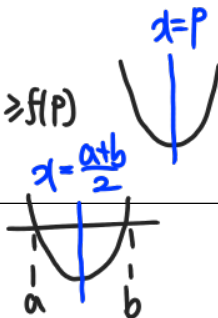
* 이차함수에서 중요한 것



- ① 최대, 최소
 - ② 대칭성
- 꼭짓점과 관련.

* 이차함수에서
① 모든 실수 x 에 대하여 $f(x) \geq f(p)$
 \Rightarrow 축 $x = p$

② $f(a) = f(b)$
 \Rightarrow 축 $x = \frac{a+b}{2}$



#이차함수 그래프와 최대, 최소

① $y = a(x-p)^2 + q$ 꼴로 표현 후

② 꼭짓점을 찾고

③ a 의 부호를 보고 그래프 개형을 그리고

④ 상황에 따라 필요한 점(범위의 경계)을 더 표시해줌

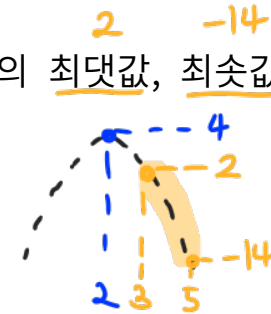
※ 꼭짓점의 포함 여부가 중요

$\rightarrow y = -2x^2 + 8x - 4 (3 \leq x \leq 5)$ 의 최대값, 최소값은?

$$= -2(x^2 - 4x + 4) + 8 - 4$$

반의제곱

$$= -2(x-2)^2 + 4$$

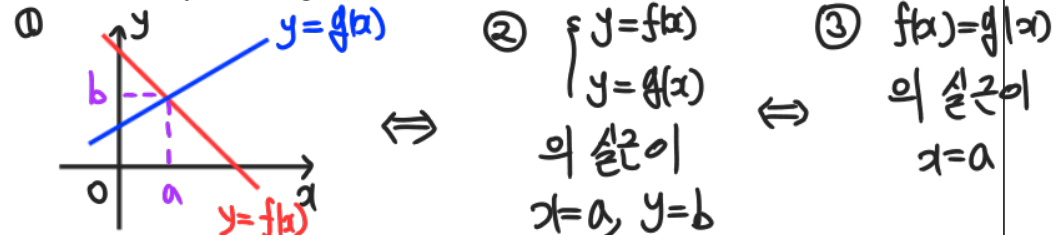


#그래프의 교점과 방정식의 실근

: $y = f(x), y = g(x)$ 그래프의 교점이 (a, b)

\Leftrightarrow 연립방정식 $\begin{cases} y = f(x) \\ y = g(x) \end{cases}$ 의 실근 $x = a, y = b$

\Leftrightarrow 방정식 $f(x) = g(x)$ 의 실근 $x = a$



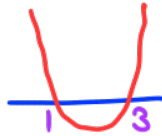
① 몇개? ② 있다면 어디?

#이차함수의 그래프와 x 축

: $y = x^2 - 4x + 3$, $y = 0$ 그래프의 **교점**이 $(1, 0), (3, 0)$

⇔ 방정식 $x^2 - 4x + 3 = 0$ 의 실근이 **키 또는 $x=3$**

$(x-1)(x-3)=0$



: 위치 관계

$ax^2 + bx + c = 0 (a \neq 0)$ 의 판별식 $D = b^2 - 4ac$

$ax^2 + bx + c = 0$ 의 판별식 D		$D > 0$	$D = 0$	$D < 0$
$ax^2 + bx + c = 0$ 의 해		서로 다른 두 실근 $\alpha, \beta (\alpha < \beta)$	중근 α	서로 다른 두 허근
$y = ax^2 + bx + c$ 의 그래프와 x 축의 교점의 개수 위치 관계		2 서로 다른 두 점에서 만난다.	1 한 점에서 만난다. (접한다.)	0 만나지 않는다.
$y = ax^2 + bx + c$ 의 그래프	$a > 0$			
	$a < 0$			

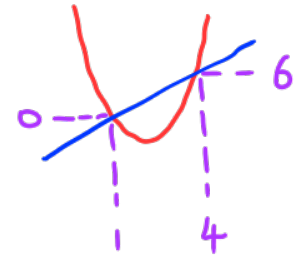
키값 대입하여 찾기

#이차함수의 그래프와 직선

: $y = x^2 - 3x + 2$, $y = 2x - 2$ 의 교점이 $(1, 0), (4, 6)$

⇔ 방정식 $x^2 - 3x + 2 = 2x - 2$ 의 실근이 **키 또는 $x=4$**

$x^2 - 5x + 4 = 0$
 $(x-1)(x-4)=0$



: 위치 관계

$ax^2 + bx + c = mx + n (a \neq 0)$ 의 판별식 $D = b^2 - 4ac$

$ax^2 + bx + c = mx + n$ 의 판별식 D	$D > 0$	$D = 0$	$D < 0$
$ax^2 + bx + c = mx + n$ 의 해	서로 다른 두 실근 $\alpha, \beta (\alpha < \beta)$	중근 α	서로 다른 두 허근
$y = ax^2 + bx + c (a > 0)$ 의 그래프와 직선 $y = mx + n$ 의 위치 관계			
	서로 다른 두 점에서 만난다.	한 점에서 만난다. (접한다.)	만나지 않는다.

20190917

17. 양수 a 에 대하여 $0 \leq x \leq a$ 에서 이차함수

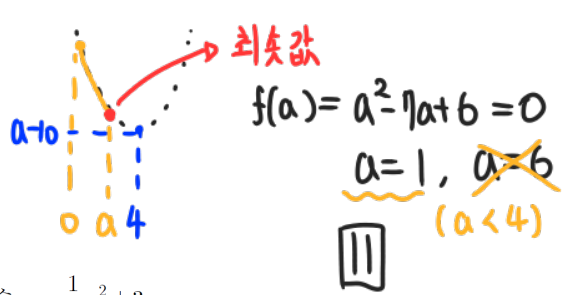
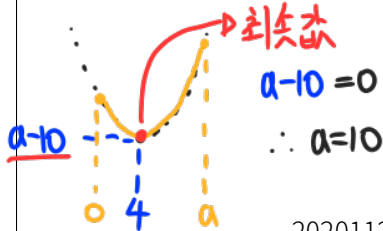
$$f(x) = x^2 - 8x + a + 6 = x^2 - 8x + 16 + a - 10 = (x-4)^2 + a - 10$$

의 최솟값이 0이 되도록 하는 모든 a 의 값의 합은? [4점]

꼭짓점 (4, a-10)

① 꼭짓점 포함 ($a > 4$)

② 꼭짓점 포함 X ($a < 4$)



20201127

27. 좌표평면에서 직선 $y=t$ 가 두 이차함수 $y = \frac{1}{2}x^2 + 3$,

$y = -\frac{1}{2}x^2 + x + 5$ 의 그래프와 만날 때, 만나는 서로 다른 점의

개수가 3인 모든 실수 t 의 값의 합을 구하시오. [4점]

① 꼭짓점

② 교점

$$y = \frac{1}{2}x^2 + 3 \rightarrow (0, 3)$$

$$\frac{1}{2}x^2 + 3 = -\frac{1}{2}x^2 + x + 5$$

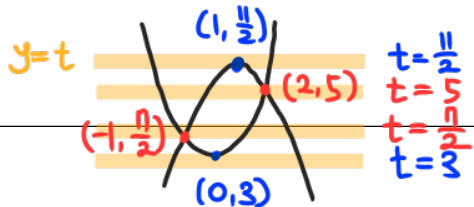
$$y = -\frac{1}{2}x^2 + x + 5$$

$$x^2 - x - 2 = 0$$

$$= -\frac{1}{2}(x-0)^2 + \frac{11}{2} \rightarrow (1, \frac{11}{2})$$

$$x = -1 \text{ 또는 } x = 2$$

$$(-1, \frac{9}{2}), (2, 5)$$



17

20170627

27. 최고차항의 계수가 a ($a > 0$)인 이차함수 $f(x)$ 가 다음 조건을 만족시킨다.

(가) 직선 $y = 4ax - 10$ 과 함수 $y = f(x)$ 의 그래프가 만나는 두 점의 x 좌표는 1과 5이다.

(나) $1 \leq x \leq 5$ 에서 $f(x)$ 의 최솟값은 -8이다.

$100a$ 의 값을 구하시오. [4점]

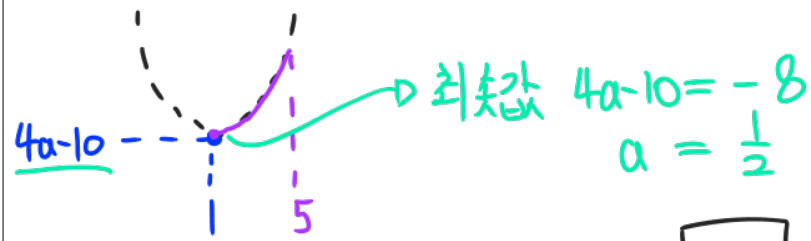
$$(가) f(x) - (4ax - 10) = a(x-1)(x-5)$$

$$f(x) - 4ax + 10 = ax^2 - 6ax + 5a$$

$$f(x) = ax^2 - 2ax + 5a - 10$$

$$= a(x-1)^2 + 4a - 10 \rightarrow \text{꼭짓점 좌표 } (1, 4a-10)$$

(4) $a > 0$ 이므로 아래로 볼록



50